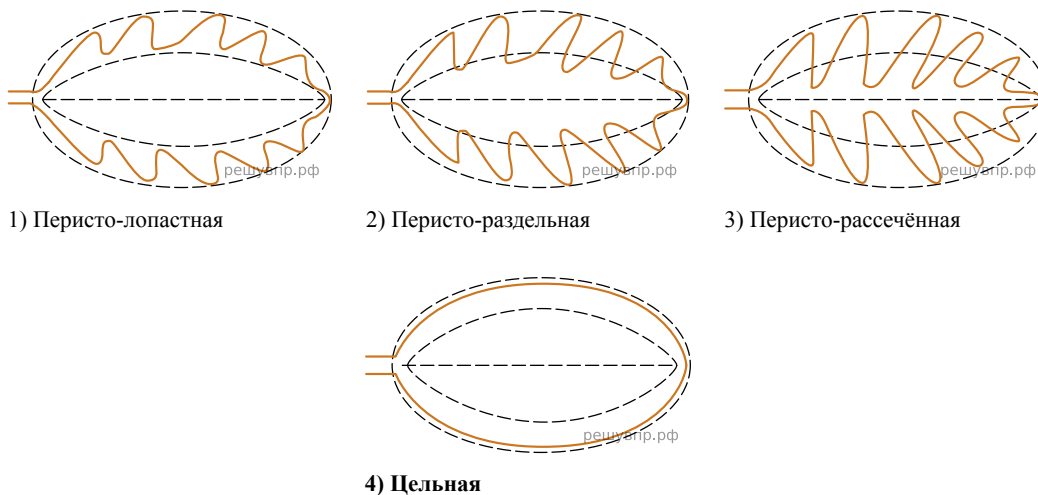


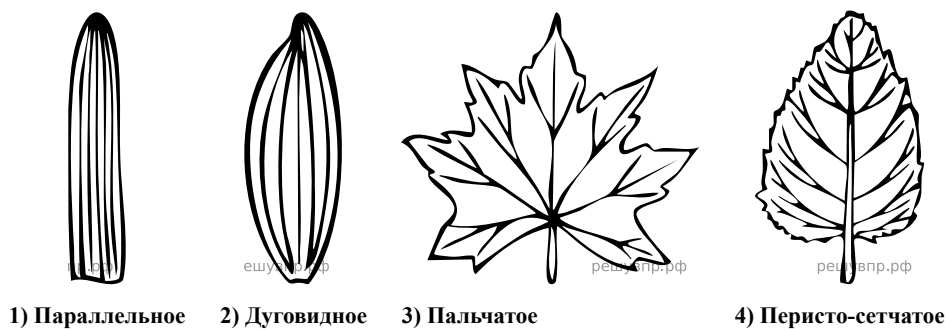
Рассмотрите изображение листа гибискуса и опишите его по следующему плану: форма листа, жилкование листа, тип листа по соотношению длины и ширины листовой пластинки (без черешка) и по расположению наиболее широкой части. Используйте при выполнении задания линейку и карандаш.



А. Форма листа

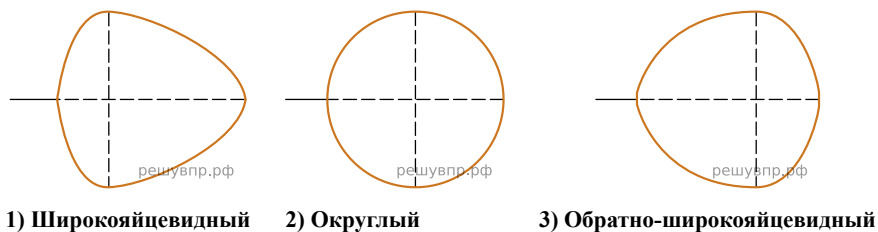


Б. Жилкование листа

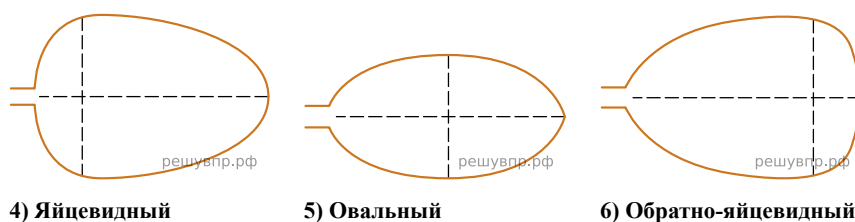


В. Тип листа

Длина равна ширине или немного её превышает.



Длина превышает ширину в 1.5-2 раза.



Запишите в ответ цифры, расположив их в порядке, соответствующем буквам:

А	Б	В
<input type="text"/>	<input type="text"/>	<input type="text"/>