



Рассмотрите изображение майника двулистного и опишите его по следующему плану: жизненная форма, тип соцветия, листорасположение.



А. Жизненная форма



1) Дерево



2) Кустарник

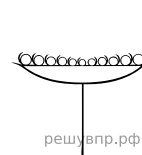


3) Травянистое Растение

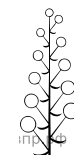


4) Кустарничек

Б. Тип соцветия



1) Корзинка



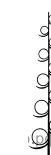
2) Кисть



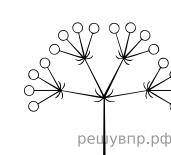
3) Метёлка



4) Серёжка



5) Колос




6) Сложный зонтик


В. Листорасположение




1) Прикорневая розетка



2) Очерёдное



3) Супротивное



4) Мутовчатое

Ответ:

А	Б	В
<input type="text"/>	<input type="text"/>	<input type="text"/>