


Рассмотрите изображение клевера ползучего и опишите его по следующему плану: жизненная форма, тип соцветия, листорасположение.




решувпр.рф

А. Жизненная форма




1) Дерево



2) Кустарник

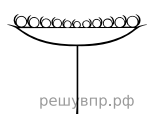


3) Травянистое Растение

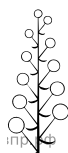


4) Кустарничек

Б. Тип соцветия



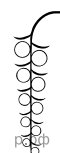
1) Корзинка



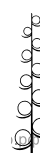
2) Кисть



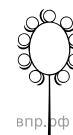
3) Метёлка



4) Серёжка




5) Колос




6) Головка


В. Листорасположение




1) Прикорневая розетка



2) Очерёдное



3) Супротивное



4) Мутовчатое

Ответ: