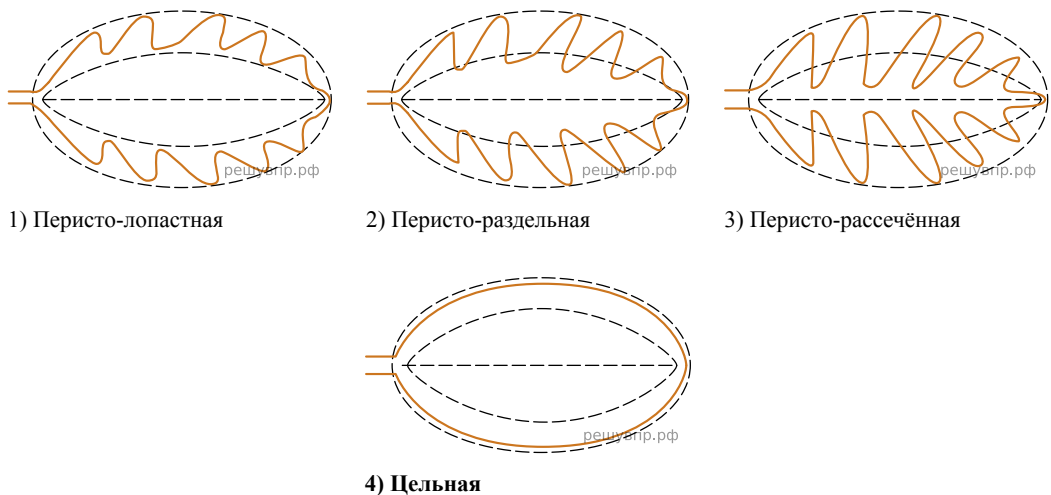


Рассмотрите изображение листа сирени и опишите его по следующему плану: форма листа, жилкование листа, тип листа по отношению длины и ширины листовидной пластинки (без черешка) и по расположению наиболее широкой части. Используйте при выполнении задания линейку и карандаш.




А. Форма листа



1) Перисто-лопастная 2) Перисто-раздельная 3) Перисто-рассечённая
4) Цельная

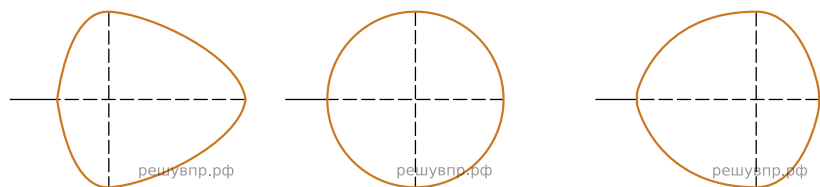
Б. Жилкование листа



1) Параллельное 2) Дуговидное 3) Пальчатое 4) Перисто-сетчатое

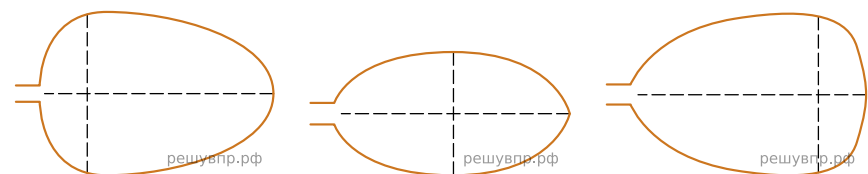
В. Тип листа

Длина равна ширине или немного её превышает.



1) Широкояйцевидный 2) Округлый 3) Обратно-широкояйцевидный

Длина превышает ширину в 1.5-2 раза.



4) Яйцевидный 5) Овальный 6) Обратно-яйцевидный

Впишите в таблицу номера выбранных ответов под соответствующими буквами.

А	Б	В
<input type="checkbox"/>	<input type="checkbox"/>	<input type="checkbox"/>